


たしざんとひきざんのひっさん(ぶんしょうだい)①6-1

月 日 ()

- ①おかし入れに チョコが ぜんぶで 43こ あります。
 あさひくんが、何こか たべました。
 チョコは 25こ のこっています。
 あさひくんが たべた チョコは、何こですか。



しき

こたえ ()

メモ

メモ

メモ

たしざんとひきざんのひっさん(ぶんしょうだい)①6-2


月 日 ()

① えんぴつが ぜんぶで 23本 あります。

子どもが なん本か もっていきました。

えんぴつは、15本 のこっています。

子どもがつかっている えんぴつは、何本ですか。



しき

こたえ ()

メモ

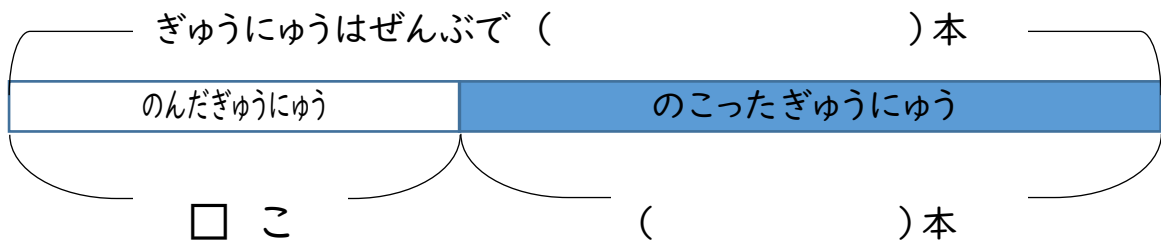
メモ

メモ

たしざんとひきざんのひっさん(ぶんしょうだい)①6-3

月 日 ()

- ①ぎゅうにゆうが ぜんぶで 18本 あります。
 おとうさんが、たくさん のんでしまいました。
 ぎゅうにゆうは 9本 のこっています。
 おとうさんは なん本 のみましたか。



しき

こたえ ()

メモ

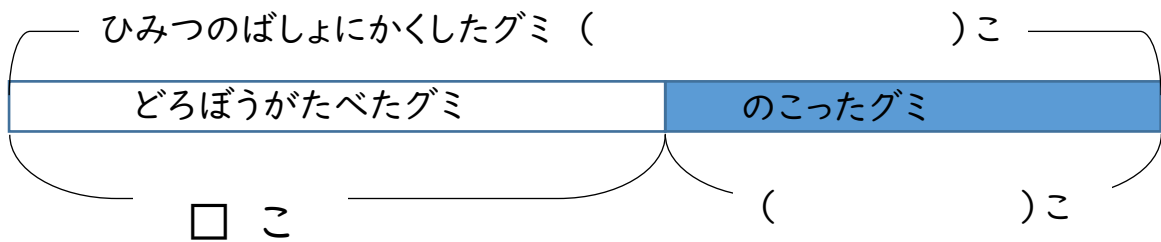
メモ

メモ

たしざんとひきざんのひっさん(ぶんしょうだい)①6-4

月 日 ()

- ①ひみつのばしょに グミを 35こかくしています。
 だろぼうが、何こか たべてしまいました。
 グミは 7こしか のこっていませんでした。
 だろぼうが たべた グミは、何こですか。



しき

こたえ ()

メモ

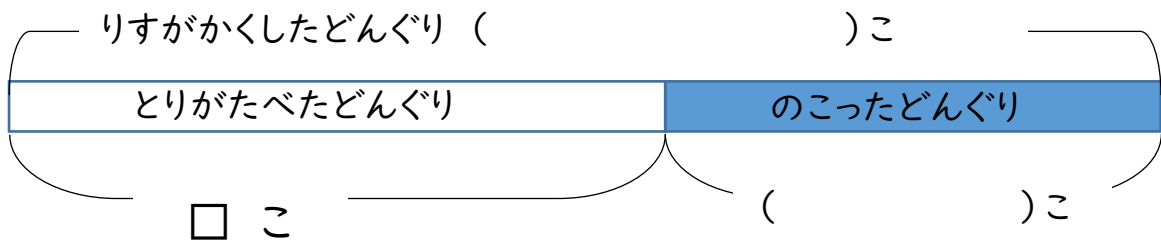
メモ

メモ

たしざんとひきざんのひっさん(ぶんしょうだい)①6-5

月 日 ()

- ①りすが、どんぐりを 43こかくしています。
 とりが、何こか たべてしまいました。
 どんぐりは 14こしか のこっていませんでした。
 とりが たべた どんぐりは、何こですか。



しき

こたえ ()

メモ

メモ

メモ